



## **2º TRIMESTRE**

**ESCOLA MUNICIPAL ARTHUR DA COSTA E SILVA.**

**TURMA: SALA DE RECURSOS MULTIFUNCIONAL**

**GRUPO 1**

**ALUNO(A): \_\_\_\_\_**

**PERÍODO DE REALIZAÇÃO: DE 23 A 27 DE AGOSTO**

**COMPONENTES CURRICULARES: ARTE - LÍNGUA PORTUGUESA –  
MATEMÁTICA**

### **Prezados Pais e responsáveis!**

Estamos realizando o 25º roteiro de atividades. Como já sabem os alunos já retornaram para a escola de forma escalonada divididos em três grupos por turma para que todas as medidas de segurança sejam cumpridas. Cada turma já escalada pelo professor tem sua semana pré-definida e, portanto deverão cumprir dias e horários rigorosamente. Os pais que não autorizaram o retorno das crianças e desejam que elas voltem ao convívio escolar, podem vir até a escola e assinar a autorização para que a professora possa inseri-los nos grupos.

**Professora: Josiane**

**COMO VAMOS ESTUDAR OS CONTEÚDOS?**

POR MEIO DAS ATIVIDADES ENVIADAS PELA PROFESSORA VIA WHATS APP A SEREM REALIZADAS NO ROTEIRO

**COMO VAMOS REGISTRAR O QUE APRENDEMOS?**

POR MEIO DA LEITURA E REGISTRO NO PRÓPRIO ROTEIRO.

**PARA QUÊ VAMOS ESTUDAR ESSES CONTEÚDOS?**

- LER E INTERPRETAR TEXTO
- IDENTIFICAR ELEMENTOS QUE NÃO FAZEM PARTE DO GRUPO
- ORIENTAR-SE NO ESPAÇO GRÁFICO
- COMPLETAR SEQUENCIA NUMÉRICA
- INTERPRETAR GRÁFICO
- REALIZAR CÁLCULOS DE METADE E TRIPLO

### Atividade 1

SÍLABAS COM: AN – EN – IN – ON - UN

### UM CÃO INTELIGENTE



Vando andava pela fazenda do tio Bento.  
 Pingo ia junto de Vando, pulando e abanando o rabo.  
 Vando sentou-se na ponte para ver o rio.  
 De repente, Pingo latiu, puxando a roupa de Vando.  
 Vando levantou-se rápido, zangado com Pingo.  
 Mas logo Vando entendeu tudo. Uma serpente estava junto deles.  
 Vando saiu correndo dali com Pingo. Depois, falou para o cão:  
 \_\_\_ Pingo, você é inteligente. Ainda bem! Uma serpente é um perigo.

PASSOS, Lucina. . *Um cão inteligente*. São Paulo: Scipione, 1995.

### INTERPRETANDO O TEXTO.

1) Quem era o proprietário da fazenda?

---

2) Pingo andava sempre com quem? O que ele viu que começou a latir?

---

3) Qual o nome do personagem que ficou bravo com o latido de Pingo?

---

4) O que você acha que Vando falou para seu tio quando chegou em casa?

---

5) Rápido e zangado são dois adjetivos que expressam como Vando agiu com Pingo. Pense em dois adjetivos ( qualidades) para o cachorro Pingo.

---

## Atividade 2

Desembaralhe as letras, forme as palavras e escreva o número de sílabas de cada palavra:

E E P N T		N O D A	
E I S R N A G		N Í I D O	
O N T V L E A		N F E E E I A R	
N F A S O A N		C N U U R G A	

## Atividade 3

**Risque o elemento que não faz parte do conjunto e dê um nome ao conjunto formado.**

1. elefante — formiga — mariposa — canguru

2. luva — relógio — pulseira — colar

3. morango — goiabada — abacaxi — maçã

4. chá — leite — café — sorvete

5. mecânico — dentista — prefeito — desenhista


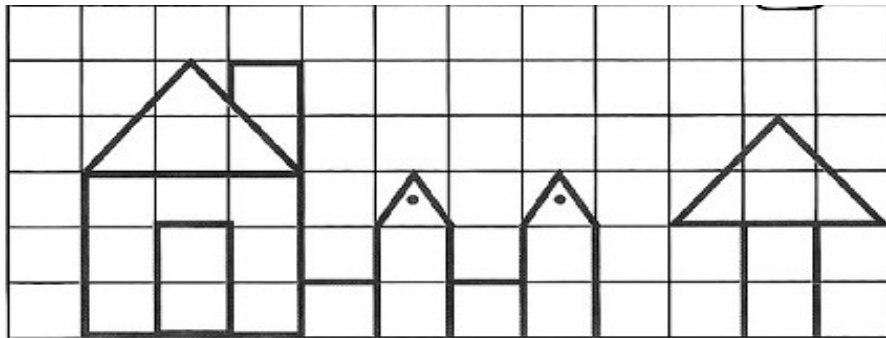
6. fazendeiro — industrial — agricultor — vaqueiro

7. japonês — chinês — coreano — africano

8. vinho — suco de uva — guaraná — Coca-Cola

#### Atividade 4

Copie o desenho abaixo corretamente:



#### Atividade 6

COMPLETE A SEQUÊNCIA DOS NÚMEROS

1) 2, 4, 6, \_\_\_\_\_, \_\_\_\_\_, \_\_\_\_\_, \_\_\_\_\_, \_\_\_\_\_, \_\_\_\_\_, \_\_\_\_\_

2) 85, 88, 91, \_\_\_\_\_, \_\_\_\_\_, \_\_\_\_\_, \_\_\_\_\_, \_\_\_\_\_, \_\_\_\_\_, \_\_\_\_\_

3) 65, 69, 73, \_\_\_\_\_, \_\_\_\_\_, \_\_\_\_\_, \_\_\_\_\_, \_\_\_\_\_, \_\_\_\_\_, \_\_\_\_\_

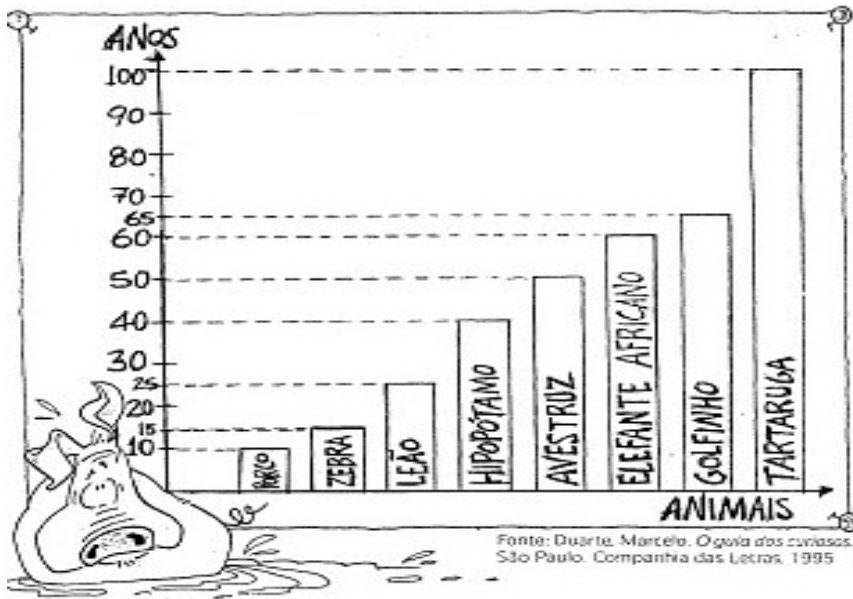
4) 72, 77, 82, \_\_\_\_\_, \_\_\_\_\_, \_\_\_\_\_, \_\_\_\_\_, \_\_\_\_\_, \_\_\_\_\_, \_\_\_\_\_

5) 21, 31, 41, \_\_\_\_\_, \_\_\_\_\_, \_\_\_\_\_, \_\_\_\_\_, \_\_\_\_\_, \_\_\_\_\_, \_\_\_\_\_

6) 54, 56, 58, \_\_\_\_\_, \_\_\_\_\_, \_\_\_\_\_, \_\_\_\_\_, \_\_\_\_\_, \_\_\_\_\_, \_\_\_\_\_

## Atividade 7

Veja no gráfico abaixo o tempo médio de vida de alguns animais:



- a) Entre esse animais, qual é o de vida mais:  
Curta: \_\_\_\_\_ longa : \_\_\_\_\_
- b) Quantos anos o elefante africano vive em média a mais que o avestruz?
- c) Quantos anos a zebra vive em média a menos que o golfinho?
- d) O leão vive em média, mais ou menos que um hipopótamo? Quanto?
- e) Qual é a metade da média de vida de um avestruz?
- f) Qual o triplo da média de vida de um golfinho?